

逆さ時計

余裕があれば時間を意識して解いてみましょう。

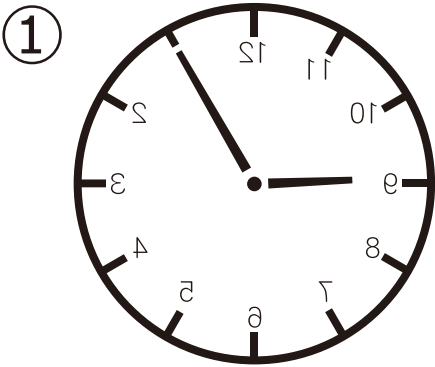
3. 逆さ時計

年 月 日 曜日 名前

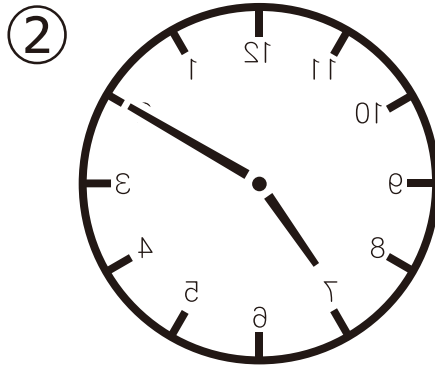
【挑戦時間】 開始： 時 分 → 終了： 時 分

☆日付や曜日、時間を意識することは脳への刺激にもなるので毎日意識してみましょう。

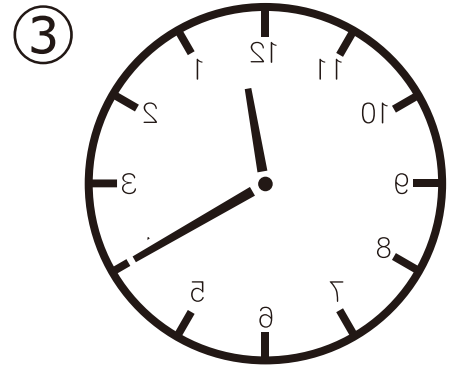
◎時計が逆さになっています。何時何分でしょう。



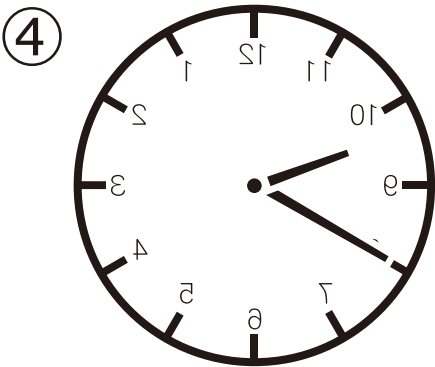
答え 9 時 5 分



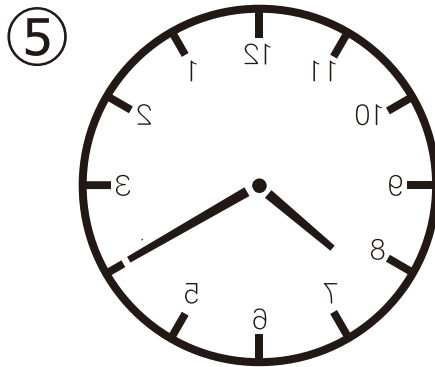
答え 7 時 10 分



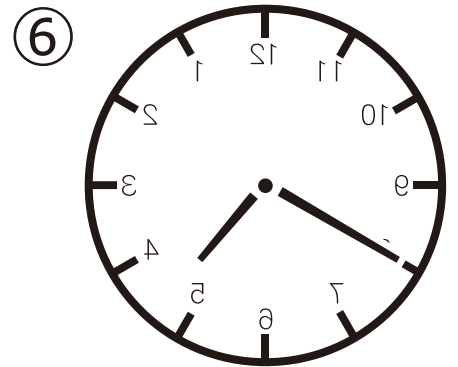
答え 12 時 20 分



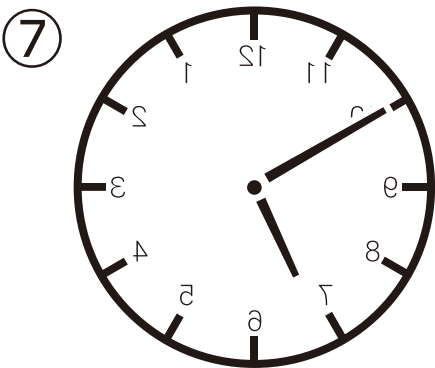
答え 9 時 40 分



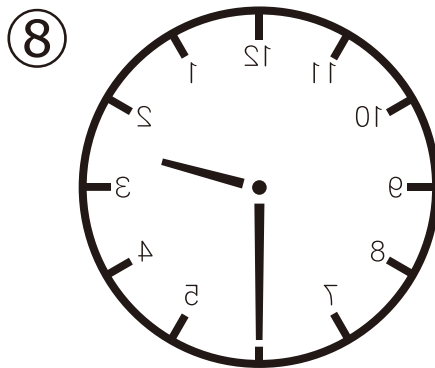
答え 7 時 20 分



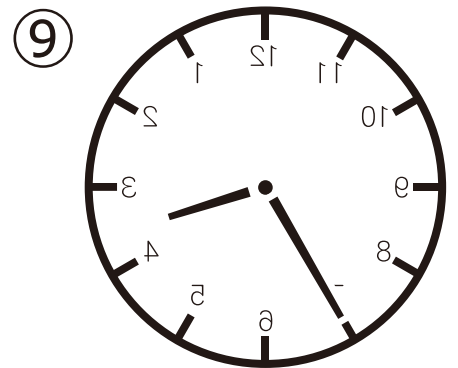
答え 4 時 40 分



答え 6 時 50 分



答え 2 時 30 分



答え 3 時 35 分