

イラスト足し算

余裕があれば時間を意識して解いてみましょう。

3. イラスト足し算

年 月 日 曜日 名前


【挑戦時間】 開始： 時 分 → 終了： 時 分


☆日付や曜日、時間を意識することは脳への刺激にもなるので毎日意識してみましょう。


◎次のイラストの計算をみて、それぞれのイラストに当てはまる数字を考えてみましょう。


①

$$\begin{array}{r} \text{Sunflower} + \text{Pink Flower} + \text{Blue/Red Flower} = 14 \\ + \quad + \quad + \\ \text{Blue/Red Flower} + \text{Pink Flower} + \text{Red Flower} = 19 \\ + \quad + \quad + \\ \text{Sunflower} + \text{Sunflower} + \text{Red Flower} = 11 \\ \parallel \quad \parallel \quad \parallel \\ 12 \quad 10 \quad 22 \end{array}$$









②

$$\begin{array}{r} \text{Orange Flower} + \text{Orange Flower} + \text{Yellow Flower} = 13 \\ + \quad + \quad + \\ \text{Pink Flower} + \text{Red Flower} + \text{Red Flower} = 19 \\ + \quad + \quad + \\ \text{Yellow Flower} + \text{Orange Flower} + \text{Pink Flower} = 16 \\ \parallel \quad \parallel \quad \parallel \\ 16 \quad 17 \quad 15 \end{array}$$

